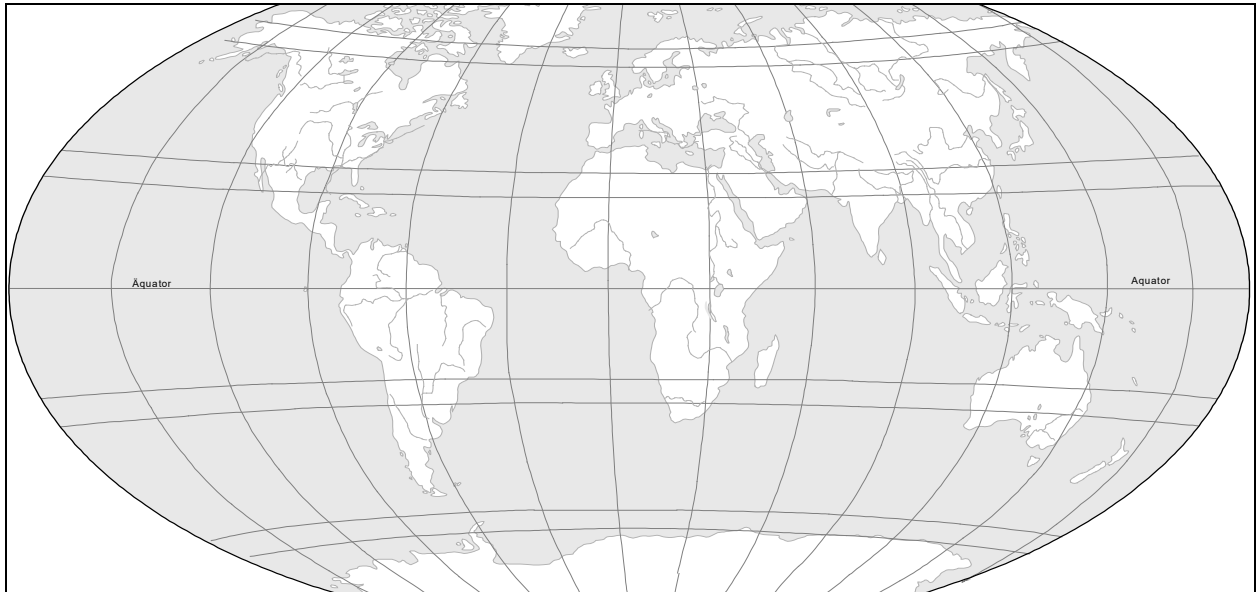


## NT 8a/b Teil 7 Die Ozeane der Erde

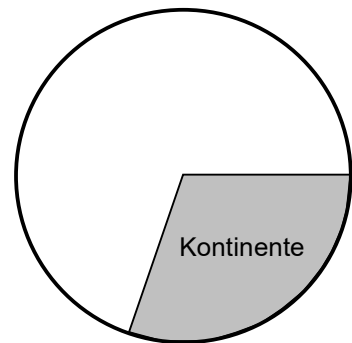
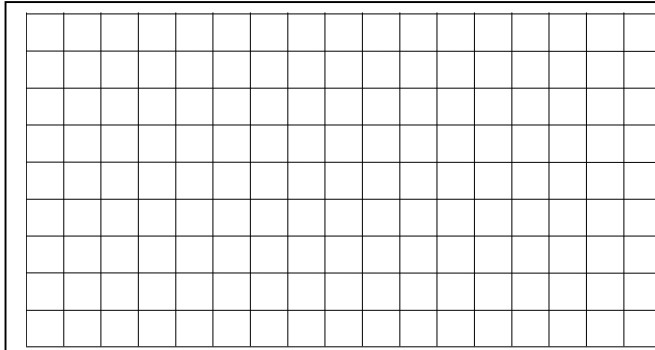
1. Beschrifte die Ozeane und die Kontinente in der Weltkarte!




2. Fülle die Tabelle aus!

Name des Ozeans	Flächengröße in Mio. km <sup>2</sup>	Wassermenge in Mio. km <sup>3</sup>

3. Berechne die prozentualen Anteile der jeweiligen Ozeane an der gesamten Erdoberfläche (510 Mio. km<sup>2</sup>)! Stelle sie im Kreisdiagramm dar!



4. Stelle die Wassermenge der drei Ozeane im Säulendiagramm dar (1 cm  $\hat{=}$  200 Mio. km<sup>3</sup>)!



5. Nenne Randmeere und Binnenmeere!

---



---



---



---